

# 入 学 試 験 問 題



## 地 理 歴 史

(配点 120 点)

平成 28 年 2 月 26 日 9 時 30 分—12 時

### 注 意 事 項

- 1 試験開始の合図があるまで、この問題冊子を開いてはいけません。
- 2 問題はすべて新課程と旧課程とに共通です。
- 3 この問題冊子は全部で 43 ページあります(本文は日本史 4 問 4～15 ページ, 世界史 3 問 16～27 ページ, 地理 3 問 28～43 ページ)。  
落丁, 乱丁または印刷不鮮明の箇所があったら, 手を挙げて監督者に知らせなさい。
- 4 日本史, 世界史, 地理のうちから, あらかじめ届け出た 2 科目について解答しなさい。
- 5 解答には, 必ず黒色鉛筆(または黒色シャープペンシル)を使用しなさい。
- 6 解答は, 1 科目につき 1 枚の解答用紙を使用しなさい。
- 7 解答用紙の指定欄に, 受験番号(表面 2 箇所, 裏面 1 箇所), 科類, 氏名を記入しなさい。指定欄以外にこれらを記入してはいけません。
- 8 解答は, 必ず解答用紙の指定された箇所に記入しなさい。
- 9 解答用紙表面上方の指定された( )内に, その用紙で解答する科目名を記入しなさい。
- 10 解答用紙表面の上部にある切り取り欄のうち, その用紙で解答する科目の分のみ 1 箇所をミシン目に沿って正しく切り取りなさい。
- 11 解答用紙の解答欄に, 関係のない文字, 記号, 符号などを記入してはいけません。また, 解答用紙の欄外の余白には, 何も書いてはいけません。
- 12 この問題冊子の余白は, 草稿用に使用してもよいが, どのページも切り離してはいけません。
- 13 解答用紙は, 持ち帰ってはいけません。
- 14 試験終了後, 問題冊子は持ち帰りなさい。

# 世界史

## 第 1 問

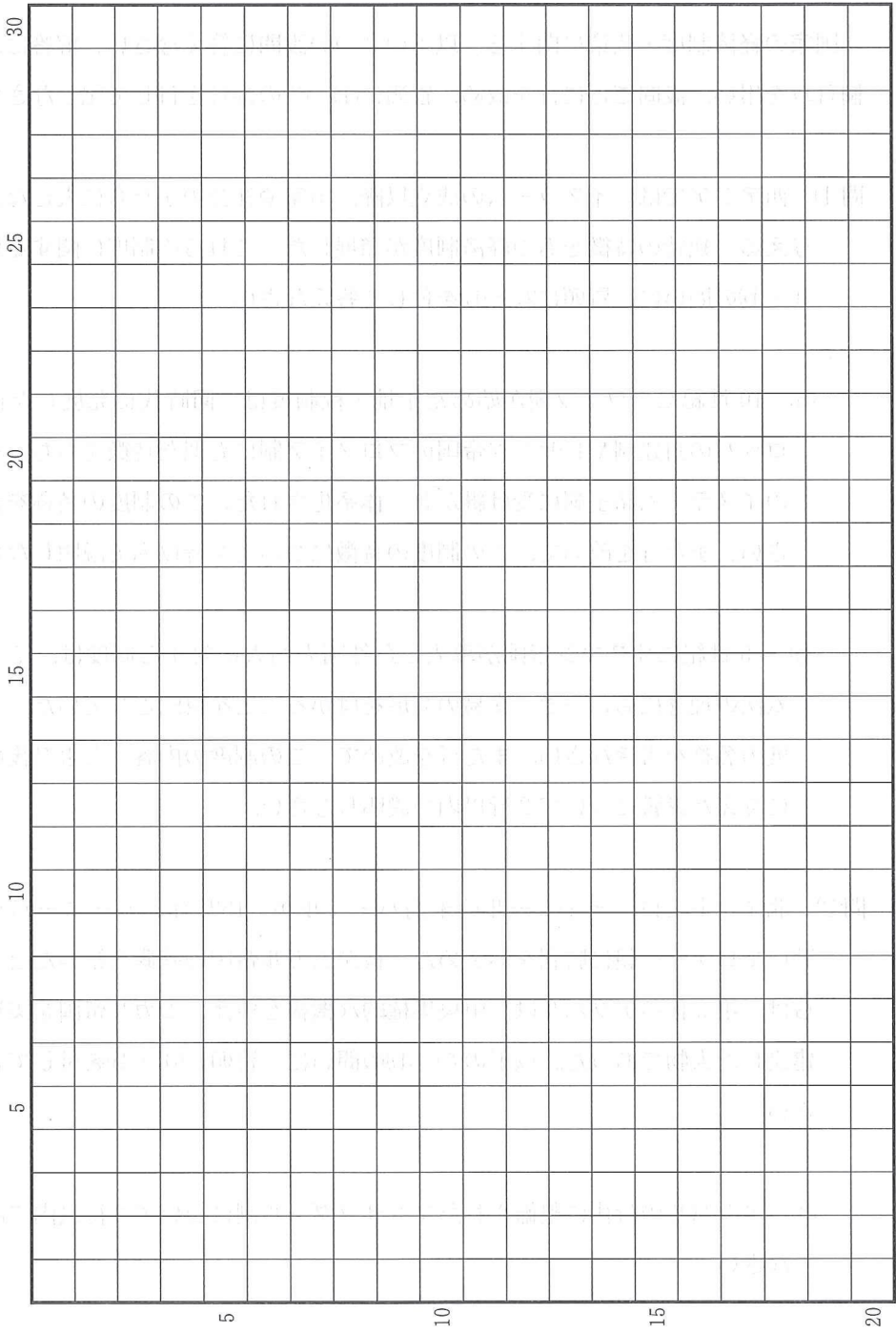
第二次世界大戦後の世界秩序を特徴づけた冷戦は、一般に 1989 年のマルタ会談やベルリンの壁の崩壊で終結したとされ、それが現代史の分岐点とされることが少なくない。だが、米ソ、欧州以外の地域を見れば、冷戦の終結は必ずしも世界史全体の転換点とは言えないことに気づかされる。米ソ「新冷戦」と呼ばれた時代に、1990 年代以降につながる変化が、世界各地で生まれつつあったのである。

以上のことを踏まえて、1970 年代後半から 1980 年代にかけての、東アジア、中東、中米・南米の政治状況の変化について論じなさい。解答は、解答欄(イ)に 20 行以内で記述し、必ず次の 8 つの語句を一度は用いて、その語句に下線を付しなさい。

アジアニーズ(注)	イラン＝イスラーム共和国	グレナダ
光州事件	サダム＝フセイン	シナイ半島
鄧小平	フォークランド紛争	

(注) アジアの新興工業経済地域(NIES)

草稿用紙 (切り離さないで用いよ。)



## 第 2 問

国家の経済制度・政策に関する，以下の 3 つの設問に答えなさい。解答は，解答欄(口)を用い，設問ごとに行を改め，冒頭に(1)～(3)の番号を付して記しなさい。

問(1) 西アジアでは，イスラームの成立以降，国家や社会のかたちに大きな影響を与える，独特の特徴をもつ経済制度が発展した。これらの制度に関する以下の(a)・(b)の問いに，冒頭に(a)・(b)を付して答えなさい。

(a) 10 世紀にプワイフ朝が始めた土地・税制度は，同時代に発展した西ヨーロッパの封建制やビザンツ帝国のプロノイア制にも似た特徴をもち，その後のイスラーム諸王朝に受け継がれ，体系化された。この制度の名称を書きなさい。また行を改めて，この制度の特徴について 2 行以内で説明しなさい。

(b) 16 世紀にオスマン帝国が導入した外国人商人に対する制度は，イスラーム法の理念にもとづき，交易の発展をはかることを目的としていた。この制度の名称を書きなさい。また行を改めて，この制度の内容，および後の時代に与えた影響について 2 行以内で説明しなさい。

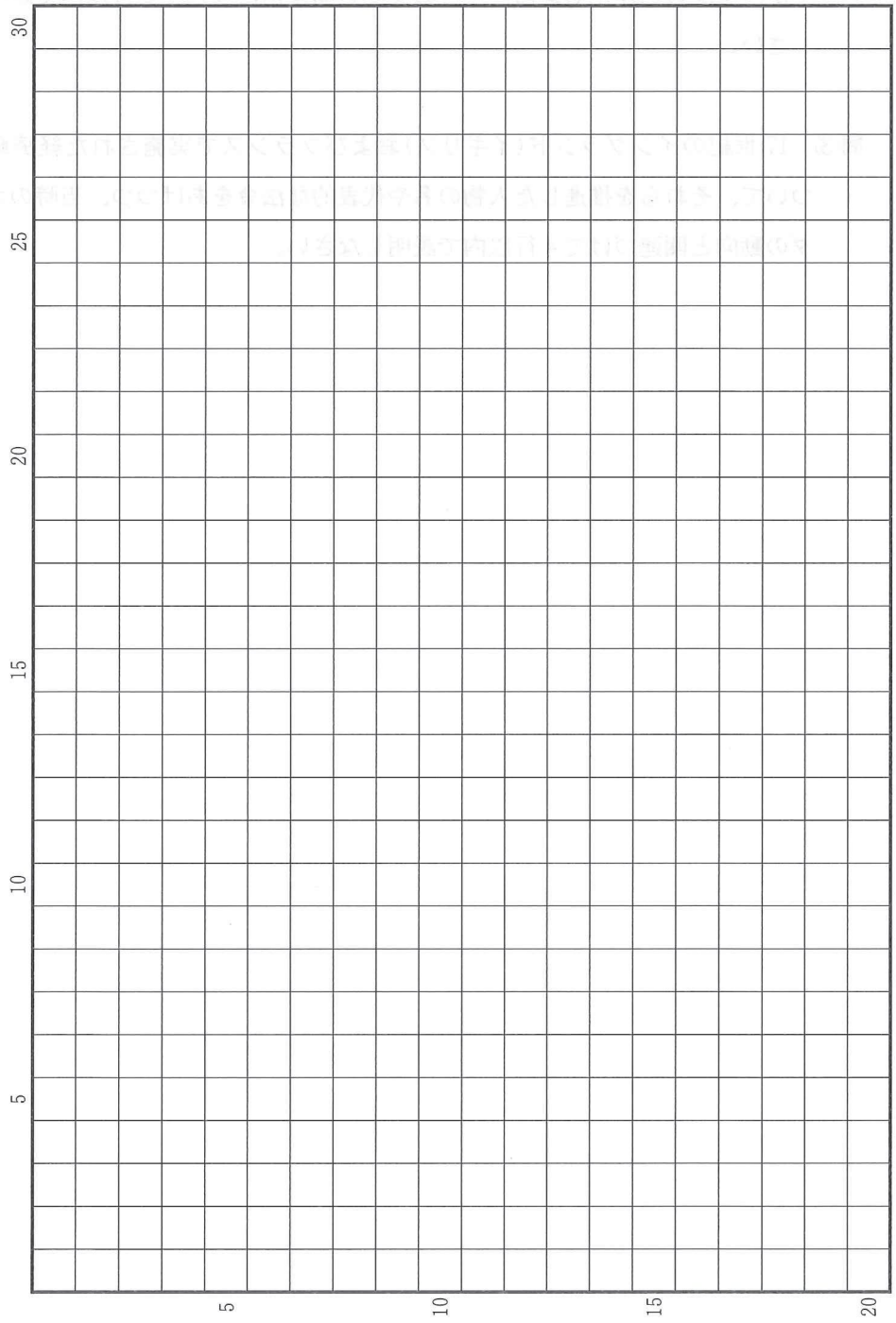
問(2) 北インドでは，ティムールの末裔バーブルが，1526 年，パーニーパットの戦いでロディー朝に勝利をおさめた。彼がムガル帝国の基礎を築いたとするならば，第 3 代のアクバルは，中央集権的な機構を整え，ムガル帝国を実質的に建設した人物であった。以下の(a)・(b)の問いに，冒頭に(a)・(b)を付して答えなさい。

(a) アクバルの時代に整備されたマンサブダール制について 2 行以内で説明しなさい。

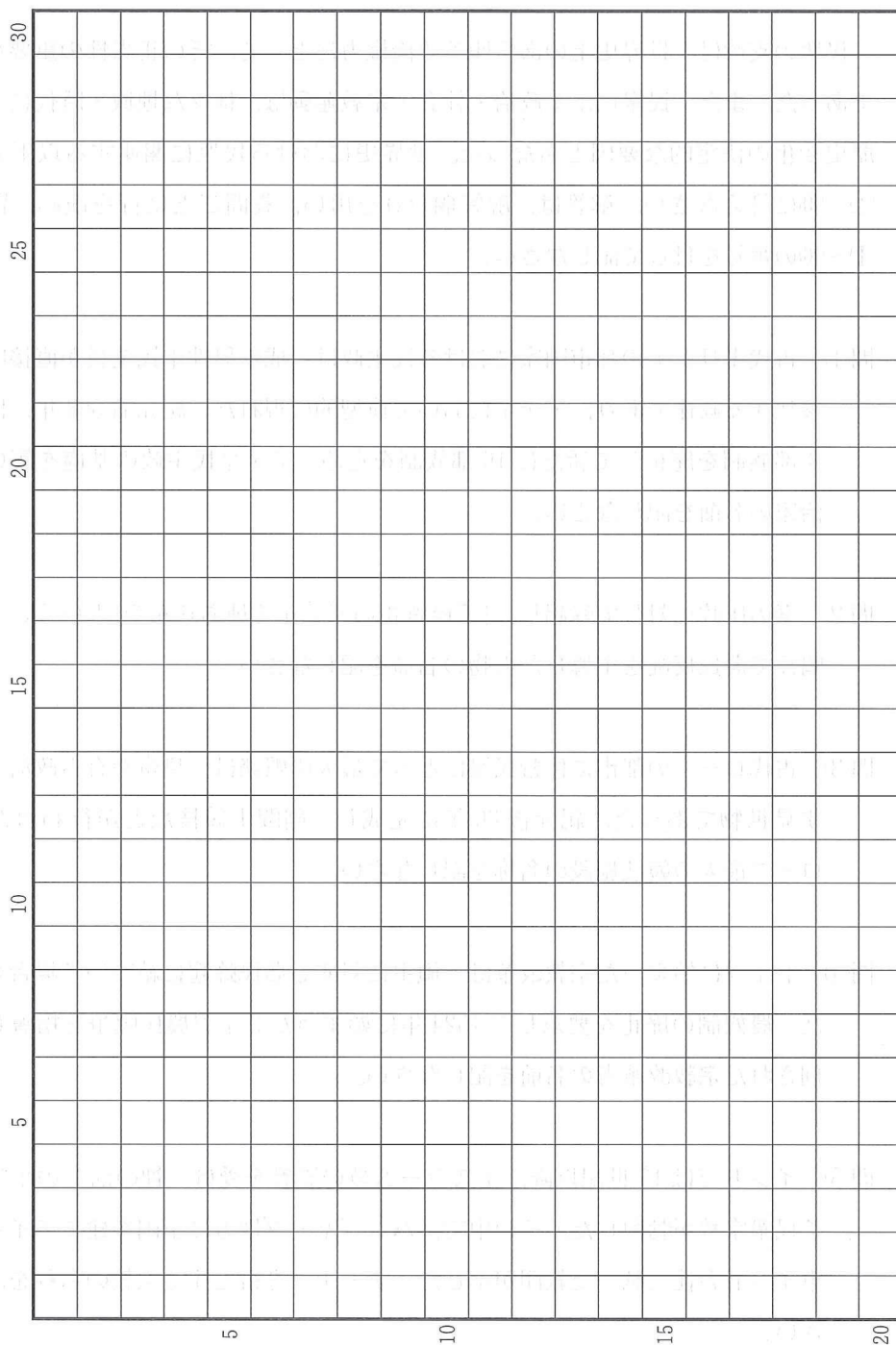
(b) 第6代アウラングゼーブの時代には、ムガル帝国の領土は最大となったが、支配の弱体化も進んだ。この支配の弱体化について2行以内で説明しなさい。

問(3) 17世紀のイングランド(イギリス)およびフランスで実施された経済政策について、それらを推進した人物の名や代表的な法令をあげつつ、当時のオランダの動向と関連づけて4行以内で説明しなさい。

草稿用紙 (切り離さないで用いよ。)



草稿用紙 (切り離さないで用いよ。)



### 第 3 問

民衆の支持は、世界史上のあらゆる政治権力にとって、その正当性の重要な要素であった。また、民衆による政治・社会・宗教運動は、様々な地域・時代における歴史変化の決定的な要因ともなった。世界史における民衆に関連する以下の設問(1)~(10)に答えなさい。解答は、解答欄(ハ)を用い、設問ごとに行を改め、冒頭に(1)~(10)の番号を付して記しなさい。

問(1) 古代ギリシアの都市国家における民主政は、成年男性市民全員が直接国政に参加する政体であり、アテネにおいて典型的に現れた。紀元前 508 年、旧来の 4 部族制を廃止して新たに 10 部族制を定め、アテネ民主政の基礎を築いた政治家の名前を記しなさい。

問(2) 秦の圧政に対して蜂起し、「王侯将相いずくんぞ種あらんや」ということばを唱えて農民反乱を主導した人物の名前を記しなさい。

問(3) 古代ローマの都市に住む民衆にとって最大の娯楽は、皇帝や有力政治家が催す見世物であった。紀元後 80 年に完成し、剣闘士競技などが行われた都市ローマ最大の競技施設の名称を記しなさい。

問(4) ドイツに始まった宗教改革は、領主に対する農民蜂起に結びつく場合もあった。農奴制の廃止を要求して 1524 年に始まったドイツ農民戦争を指導し、処刑された宗教改革者の名前を記しなさい。

問(5) インドでは 15 世紀以降、イスラーム教の影響を受け、神の前での平等を説く民衆宗教が勃興した。その中で、パンジャブ地方に王国を建ててイギリス東インド会社と戦った教団が奉じた、ナーナクを祖とする宗教の名称を記しなさい。



問(6) 植民地化が進むインドで1857年に起こり、またたく間に北インドのほぼ全域に広がった大反乱は、旧支配層から民衆に至る幅広い社会階層が参加するものであった。この反乱のきっかけを作り、その主な担い手ともなったインド人傭兵の名称を記しなさい。

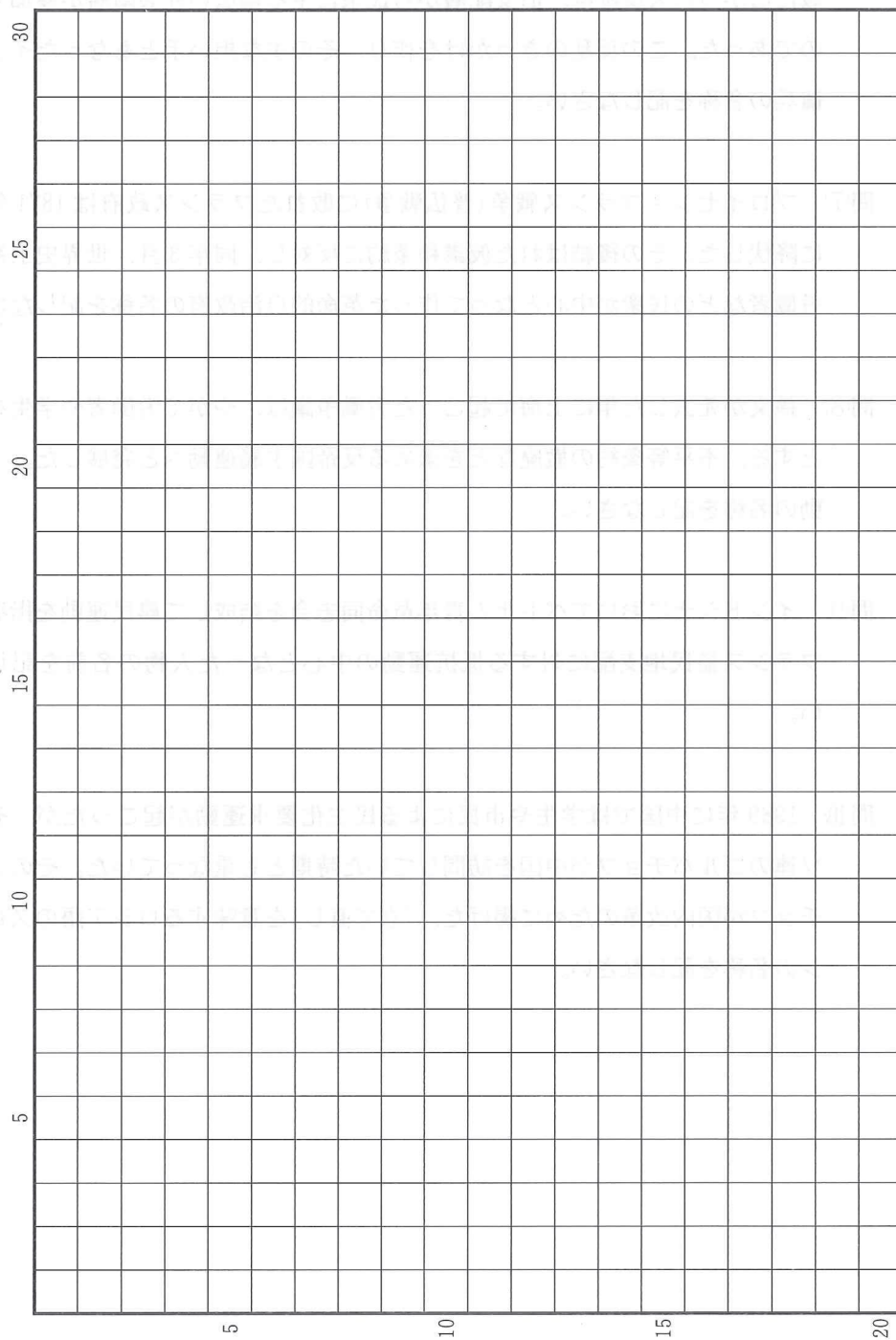
問(7) プロイセン＝フランス戦争(普仏戦争)に敗れたフランス政府は1871年1月に降伏した。その後結ばれた仮講和条約に反対し、同年3月、世界史上初めて労働者などの民衆が中心となって作った革命的自治政府の名称を記しなさい。

問(8) 孫文が死去した年に上海で起こった労働争議は、やがて労働者や学生を中心とする、不平等条約の撤廃などを求める反帝国主義運動へと発展した。この運動の名称を記しなさい。

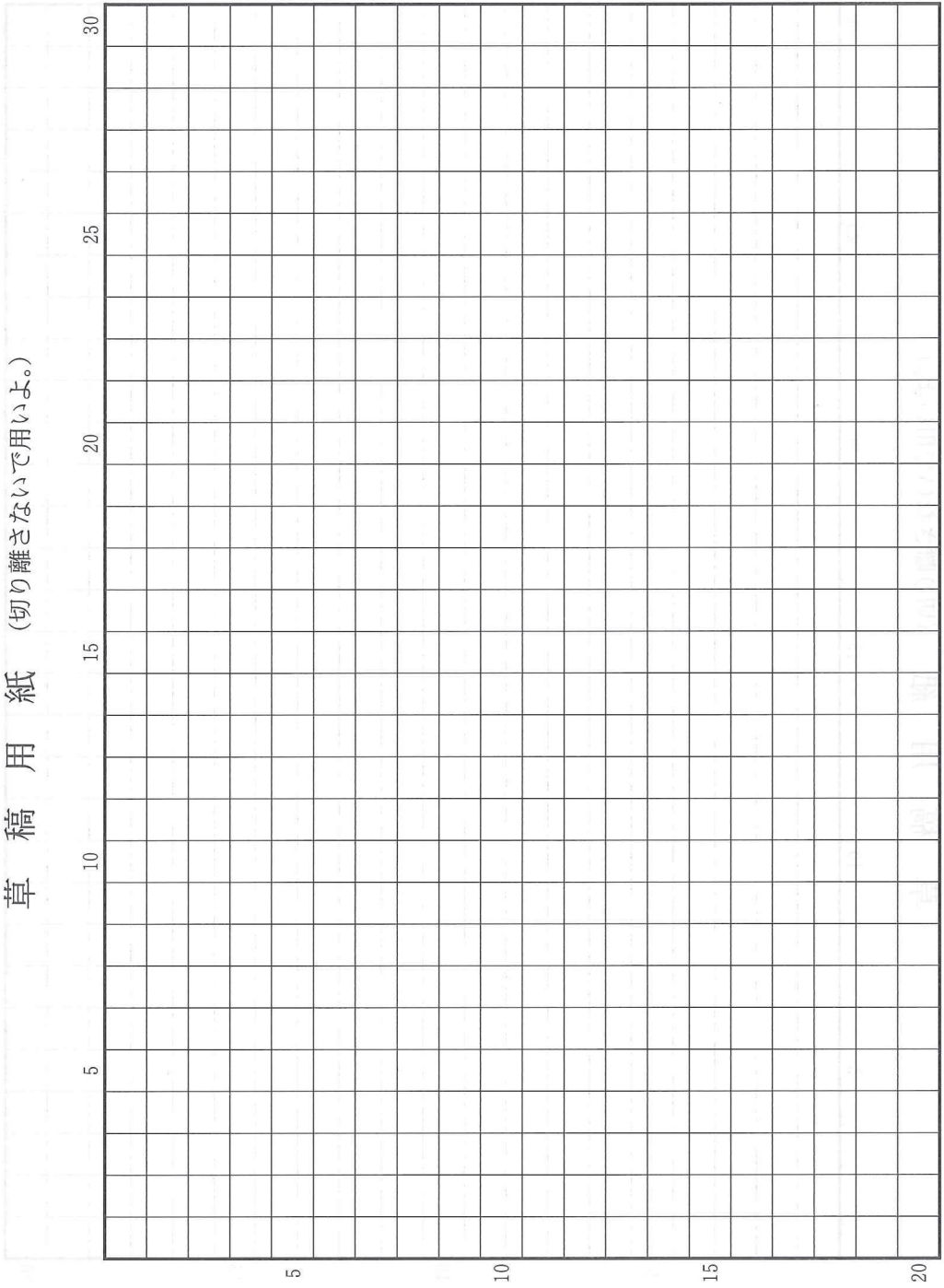
問(9) インドシナにおいてベトナム青年革命同志会を結成して農民運動を指導し、フランス植民地支配に対する抵抗運動の中心となった人物の名前を記しなさい。

問(10) 1989年に中国では学生や市民による民主化要求運動が起こったが、それはソ連のゴルバチョフが中国を訪問していた時期とも重なっていた。そのゴルバチョフが国内改革のために掲げた、「立て直し」を意味するロシア語のスローガンの名称を記しなさい。

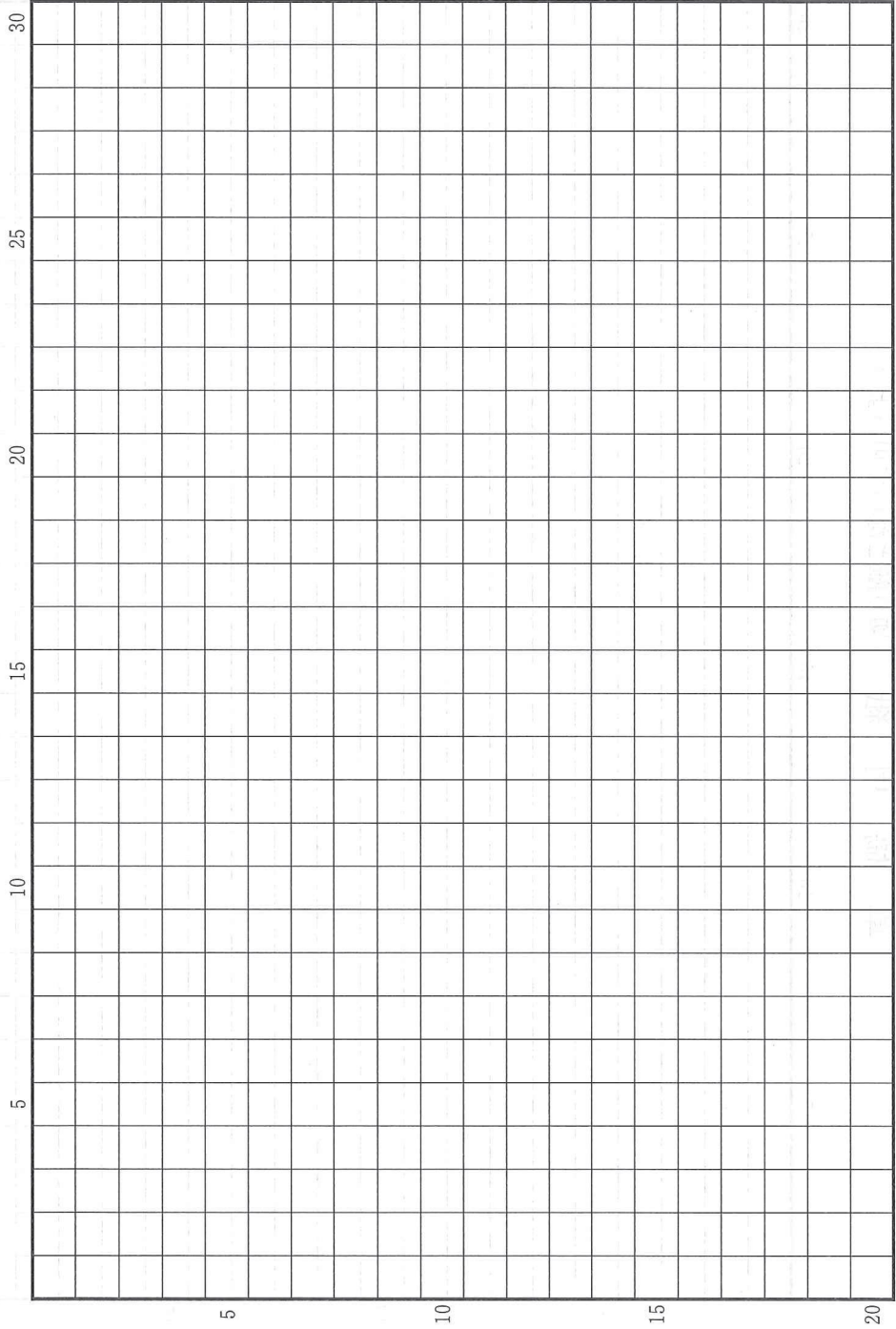
草稿用紙 (切り離さないで用いよ。)



草稿用紙 (切り離さないで用いよ。)



草稿用紙 (切り離さないで用いよ。)



草稿用紙 (切り離さないで用いよ。)

